

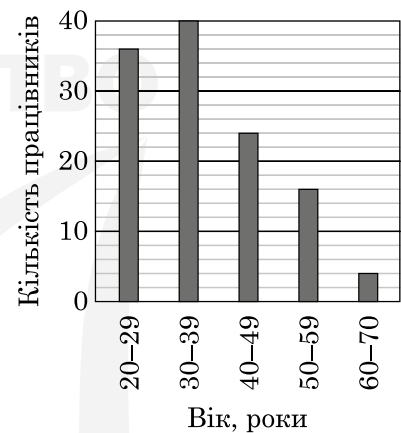
Завдання 1–15 мають по п'ять варіантів відповіді, з яких лише один правильний. Виберіть правильний, на вашу думку, варіант відповіді та позначте його в бланку відповідей.

1. Для оформлення зали до свята закуплено повітряні кульки лише двох кольорів у відношенні 4 : 5. Якому з наведених чисел може дорівнювати загальна кількість повітряних кульок, закуплених для оформлення зали?

А	Б	В	Г	Д
100	115	117	120	145

2. На діаграмі відображено розподіл кількості працівників фірми за віком. Скільки всього працівників працює на цій фірмі?

А	Б	В	Г	Д
40	96	120	144	110



3. Сума довжин усіх бічних ребер прямокутного паралелепіпеда дорівнює 120 см. Визначте довжину його висоти.

А	Б	В	Г	Д
15 см	30 см	40 см	60 см	10 см

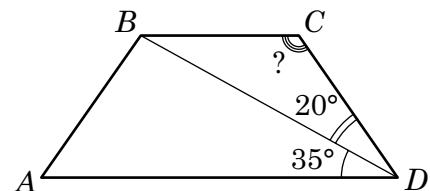
4. Розв'яжіть систему рівнянь $\begin{cases} xy = -12, \\ x(2y - 1) = -18. \end{cases}$ Якщо $(x_0; y_0)$ — розв'язок системи,

то $x_0 = \dots$

А	Б	В	Г	Д
-6	-16	-9	2	6

5. На рисунку зображено трапецію $ABCD$. Визначте градусну міру кута BCD , якщо $\angle ADB = 35^\circ$, $\angle BDC = 20^\circ$.

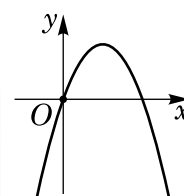
А	Б	В	Г	Д
125°	165°	155°	145°	140°



6. Спростіть вираз $\frac{(a-b)^2 - b^2}{a}$.

А	Б	В	Г	Д
a	$a - 2b$	$a - b$	$a + b$	$a - 2b^2$

7. На рисунку зображено ескіз графіка функції $y = ax^2 + bx + c$. Укажіть правильне твердження щодо коефіцієнтів a, b, c .



А	Б	В	Г	Д
$\begin{cases} a < 0, \\ b < 0, \\ c = 0 \end{cases}$	$\begin{cases} a > 0, \\ b < 0, \\ c > 0 \end{cases}$	$\begin{cases} a > 0, \\ b > 0, \\ c = 0 \end{cases}$	$\begin{cases} a < 0, \\ b > 0, \\ c < 0 \end{cases}$	$\begin{cases} a < 0, \\ b > 0, \\ c = 0 \end{cases}$

8. В арифметичній прогресії (a_n) : $a_1 = -4$; $a_5 = a_4 + 3$. Визначте десятий член a_{10} цієї прогресії.

А	Б	В	Г	Д
-31	-27	26	27	23

9. Які з наведених тверджень є правильними?

- I. Діагоналі будь-якого ромба ділять його кути навпіл.
 II. Діагоналі будь-якого чотирикутника точкою перетину діляться навпіл.
 III. Діагоналі будь-якого квадрата перпендикулярні.

А	Б	В	Г	Д
лише I	I, II та III	лише III	лише I та II	лише I та III

10. Укажіть проміжок, якому належить корінь рівняння $5^{x+1} = 125$.

А	Б	В	Г	Д
$[0; 3)$	$[3; 4)$	$[4; 10)$	$[10; 25)$	$[25; 625]$

11. Укажіть рівняння прямої, яка може бути дотичною до графіка функції $y = f(x)$ у точці з абсцисою $x_0 = 2$, якщо $f'(2) = -3$.

А	Б	В	Г	Д
$y = -\frac{3}{2}x + 1$	$y = 3x - 2$	$y = 2x + 3$	$y = \frac{3}{2}x - 1$	$y = -3x + 2$

12. Спростіть вираз $(a^6)^4 : a^2$, де $a \neq 0$.

А	Б	В	Г	Д
a^5	a^8	a^{10}	a^{12}	a^{22}

13. Розв'яжіть нерівність $\log_{0,5}(x - 1) > 2$.

А	Б	В	Г	Д
$(1; 1,25)$	$(2; +\infty)$	$(1,25; +\infty)$	$(0; 0,25)$	$(-\infty; 1,25)$

14. Укажіть правильну нерівність, якщо $a = \sin 120^\circ$, $b = \cos 120^\circ$.

А	Б	В	Г	Д
$0 < b < a$	$a < 0 < b$	$a < b < 0$	$0 < a < b$	$b < 0 < a$

15. Сторона основи правильної чотирикутної піраміди дорівнює 6 см, усі її бічні грані нахилені до площини основи під кутом 60° . Визначте площу бічної поверхні цієї піраміди.

А	Б	В	Г	Д
72 см^2	$24\sqrt{3} \text{ см}^2$	$48\sqrt{3} \text{ см}^2$	$72\sqrt{3} \text{ см}^2$	144 см^2

У завданнях 16–18 до кожного з трьох пунктів інформації, позначених цифрами, доберіть один правильний, на вашу думку, варіант, позначений буквою. Поставте позначки в таблицях у бланку відповіді.

16. Установіть відповідність між початком речення (1–3) і його закінченням (А–Д) так, щоб утворилося правильне твердження.

Початок речення

- Графік функції $y = -x^3$
- Графік функції $y = \sqrt{x}$
- Графік функції $y = \cos x$

Закінчення речення

- розміщено лише в першій і другій координатних чвертях.
- має з графіком рівняння $x^2 + y^2 = 9$ лише одну спільну точку.
- симетричний відносно осі y .
- симетричний відносно початку координат.
- не має спільних точок із графіком рівняння $x = 0$.

А Б В Г Д

1	<input type="checkbox"/>	<input type="checkbox"/>	<input type="checkbox"/>	<input type="checkbox"/>	<input type="checkbox"/>
2	<input type="checkbox"/>	<input type="checkbox"/>	<input type="checkbox"/>	<input type="checkbox"/>	<input type="checkbox"/>
3	<input type="checkbox"/>	<input type="checkbox"/>	<input type="checkbox"/>	<input type="checkbox"/>	<input type="checkbox"/>

17. Установіть відповідність між виразом (1–3) і твердженням про його значення (А–Д), яке є правильним, якщо $a = -2\frac{1}{3}$.

Вираз

- a^2
- $a + |a|$
- $\log_5 5^a$

Твердження про значення виразу

- більше за 5
- належить проміжку $(0; 1)$
- є від'ємним числом
- належить проміжку $[1; 5)$
- дорівнює 0

А Б В Г Д

1	<input type="checkbox"/>	<input type="checkbox"/>	<input type="checkbox"/>	<input type="checkbox"/>	<input type="checkbox"/>
2	<input type="checkbox"/>	<input type="checkbox"/>	<input type="checkbox"/>	<input type="checkbox"/>	<input type="checkbox"/>
3	<input type="checkbox"/>	<input type="checkbox"/>	<input type="checkbox"/>	<input type="checkbox"/>	<input type="checkbox"/>

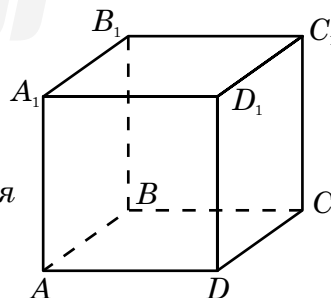
18. На рисунку зображено куб $ABCD A_1 B_1 C_1 D_1$, ребро якого дорівнює 2. До кожного початку речення (1–3) доберіть його закінчення (А–Д) так, щоб утворилося правильне твердження.

Початок речення

- Довжина діагоналі куба дорівнює
- Відстань від точки A до прямої $A_1 C_1$ дорівнює
- Відстань від точки A до площини $(BB_1 D_1)$ дорівнює

Закінчення речення

- 2.
- $2\sqrt{2}$.
- $2\sqrt{3}$.
- $\sqrt{3}$.
- $\sqrt{2}$.



А Б В Г Д

1	<input type="checkbox"/>	<input type="checkbox"/>	<input type="checkbox"/>	<input type="checkbox"/>	<input type="checkbox"/>
2	<input type="checkbox"/>	<input type="checkbox"/>	<input type="checkbox"/>	<input type="checkbox"/>	<input type="checkbox"/>
3	<input type="checkbox"/>	<input type="checkbox"/>	<input type="checkbox"/>	<input type="checkbox"/>	<input type="checkbox"/>

Розв'яжіть завдання 19–22. Одержані числові відповіді запишіть у бланку відповіді.
Відповідь записуйте лише десятковим дробом.

19. Обчисліть значення виразу $\frac{1}{70} \cdot 2^{3\log_2 7}$.
20. Для оформлення салону краси вирішили замовити в магазині квітів дві орхідеї різних кольорів та п'ять кущів хризантем різних кольорів. Усього в магазині є в продажу орхідеї десяти кольорів та кущі хризантем восьми кольорів. Скільки всього є способів формування такого замовлення?
21. Навколо конуса описано трикутну піраміду, площа основи якої дорівнює $200\sqrt{3}$, а периметр основи — 100. Визначте об'єм V цього конуса, якщо довжина його твірної дорівнює 8. У відповідь запишіть $\frac{V}{\pi}$.
22. Знайдіть від'ємне значення параметра a , при якому площа фігури, обмеженої графіком функції $y = ax^2 - 3$ і прямими $x = 1$, $x = 3$, $y = 0$, дорівнює 19.



Бланк відповідей до зошита 4 з математики

	А	Б	В	Г	Д		А	Б	В	Г	Д		А	Б	В	Г	Д						
1	<input type="checkbox"/>	<input type="checkbox"/>	<input type="checkbox"/>	<input type="checkbox"/>	<input type="checkbox"/>	5	<input type="checkbox"/>	<input type="checkbox"/>	<input type="checkbox"/>	<input type="checkbox"/>	<input type="checkbox"/>	9	<input type="checkbox"/>	<input type="checkbox"/>	<input type="checkbox"/>	<input type="checkbox"/>	<input type="checkbox"/>	13	<input type="checkbox"/>	<input type="checkbox"/>	<input type="checkbox"/>	<input type="checkbox"/>	<input type="checkbox"/>
2	<input type="checkbox"/>	<input type="checkbox"/>	<input type="checkbox"/>	<input type="checkbox"/>	<input type="checkbox"/>	6	<input type="checkbox"/>	<input type="checkbox"/>	<input type="checkbox"/>	<input type="checkbox"/>	<input type="checkbox"/>	10	<input type="checkbox"/>	<input type="checkbox"/>	<input type="checkbox"/>	<input type="checkbox"/>	<input type="checkbox"/>	14	<input type="checkbox"/>	<input type="checkbox"/>	<input type="checkbox"/>	<input type="checkbox"/>	<input type="checkbox"/>
3	<input type="checkbox"/>	<input type="checkbox"/>	<input type="checkbox"/>	<input type="checkbox"/>	<input type="checkbox"/>	7	<input type="checkbox"/>	<input type="checkbox"/>	<input type="checkbox"/>	<input type="checkbox"/>	<input type="checkbox"/>	11	<input type="checkbox"/>	<input type="checkbox"/>	<input type="checkbox"/>	<input type="checkbox"/>	<input type="checkbox"/>	15	<input type="checkbox"/>	<input type="checkbox"/>	<input type="checkbox"/>	<input type="checkbox"/>	<input type="checkbox"/>
4	<input type="checkbox"/>	<input type="checkbox"/>	<input type="checkbox"/>	<input type="checkbox"/>	<input type="checkbox"/>	8	<input type="checkbox"/>	<input type="checkbox"/>	<input type="checkbox"/>	<input type="checkbox"/>	<input type="checkbox"/>	12	<input type="checkbox"/>	<input type="checkbox"/>	<input type="checkbox"/>	<input type="checkbox"/>	<input type="checkbox"/>						

16	А	Б	В	Г	Д
1	<input type="checkbox"/>	<input type="checkbox"/>	<input type="checkbox"/>	<input type="checkbox"/>	<input type="checkbox"/>
2	<input type="checkbox"/>	<input type="checkbox"/>	<input type="checkbox"/>	<input type="checkbox"/>	<input type="checkbox"/>
3	<input type="checkbox"/>	<input type="checkbox"/>	<input type="checkbox"/>	<input type="checkbox"/>	<input type="checkbox"/>

17	А	Б	В	Г	Д
1	<input type="checkbox"/>	<input type="checkbox"/>	<input type="checkbox"/>	<input type="checkbox"/>	<input type="checkbox"/>
2	<input type="checkbox"/>	<input type="checkbox"/>	<input type="checkbox"/>	<input type="checkbox"/>	<input type="checkbox"/>
3	<input type="checkbox"/>	<input type="checkbox"/>	<input type="checkbox"/>	<input type="checkbox"/>	<input type="checkbox"/>

18	А	Б	В	Г	Д
1	<input type="checkbox"/>	<input type="checkbox"/>	<input type="checkbox"/>	<input type="checkbox"/>	<input type="checkbox"/>
2	<input type="checkbox"/>	<input type="checkbox"/>	<input type="checkbox"/>	<input type="checkbox"/>	<input type="checkbox"/>
3	<input type="checkbox"/>	<input type="checkbox"/>	<input type="checkbox"/>	<input type="checkbox"/>	<input type="checkbox"/>

19 ,
20 ,

21 ,
22 ,

